

МИНИСТЕРСТВО ПРОСВЕЩЕНИЯ РОССИЙСКОЙ ФЕДЕРАЦИИ

Муниципальное бюджетное общеобразовательное учреждение
«Средняя общеобразовательная школа № 1»
Режевского городского округа

РАССМОТРЕНО

на методическом
объединении


Захарова В.Н.

Протокол №1 от «30»
августа 2023 г.

СОГЛАСОВАНО

заместитель директора
по УВР


Кифа Т. И.

Протокол №1 от «30»
августа 2023 г.

УТВЕРЖДЕНО

директор МБОУ СОШ
№1


Сурин Р.В.

Приказ №342-01/01-10
от «31» августа 2023 г.




КОНТРОЛЬНО-ИЗМЕРИТЕЛЬНЫЕ МАТЕРИАЛЫ

МАТЕМАТИКА

для обучающихся 1 - 4 классов

Составитель:
коллектив учителей
начальной школы

г. Реж
2023 г.



ЧАСТЬ 2

При выполнении заданий 10 и 11 запиши решение и ответ.

10. Реши задачу.

В букете 7 пионов, а гвоздик на 2 меньше чем пионов. Сколько цветов в этом букете?

Решение:

Ответ. _____

11. Реши задачу.

В первой банке 6 л воды, во второй 2 л воды, а в третьей – 1 л воды. Что нужно сделать, чтобы воды в банках стало поровну?

Ответ. _____

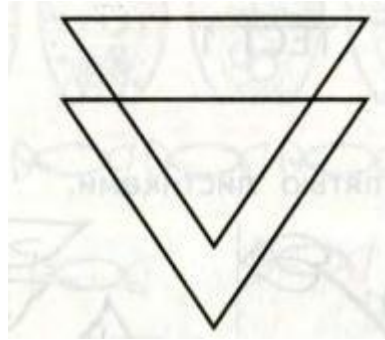
ВАРИАНТ 2

ЧАСТЬ 1

При выполнении заданий 1 – 8 этой части запиши ответ на специально отведённой строке. При выполнении задания 9 дорисуй фигуру.


1. Найди сумму чисел 9 и 5.

8. Сколько всего треугольников на рисунке?



Ответ. _____

9. Дорисуй зеркальное отражение фигуры.



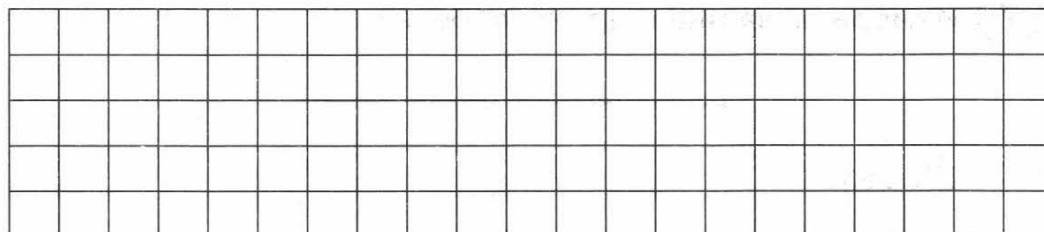
ЧАСТЬ 2

При выполнении заданий 10 и 11 запиши решение и ответ.

10. Реши задачу.

Дед и внук ловили рыбу. Дед поймал 9 рыб, а внук на 4 штуки меньше. Сколько рыб дед и внук поймали вместе?


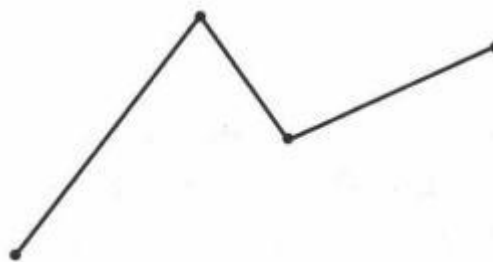
Решение:



Ответ. _____

11. Реши задачу.

Толя хотел купить 7 марок с животными и 5 марок с машинами, но на 1 марку у него не хватило денег. Сколько марок смог купить Толя?



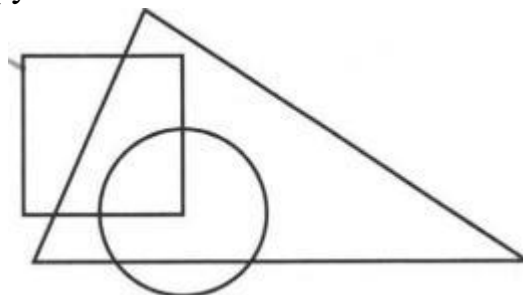
Ответ. _____

8. Какое время показывают часы? Запиши.



Ответ. _____

9. Закрась общую часть квадрата и круга.





ЧАСТЬ 2

При выполнении заданий 10 и 11 запиши решение и ответ.

10. Реши задачу.

На одной стороне улицы стоит 9 домов, на другой стороне улицы на 2 дома больше. Сколько всего домов стоит на этой улице?


Решение:



Ответ. _____

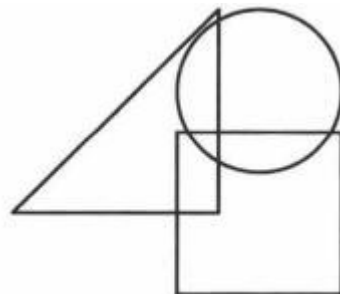
7. Реши задачу. Запиши ответ.

У паука 8 ног. Сколько ног у трёх паков?



Ответ. _____

8. Раскрась фигуры так, чтобы треугольник лежал под кругом, а квадрат был самой верхней фигурой.



9. Поставь знаки сравнения.

50 мм ... 10 см

4 дм ... 42 см

9 дм ... 1 м

ЧАСТЬ 2

При выполнении заданий 10 и 11 запиши решение и ответ.

10. Реши задачу.

На клумбах вырастили 48 красных роз. А жёлтых на 18 меньше. Сколько всего роз вырастили на клумбах?

4. Найди значение, записывая решение столбиком:

$34 + 21$; $58 + 32$; $36 - 23$; $83 - 53$

5. Начерти два отрезка. Длина одного отрезка 4 см, а другой на 3 см длиннее. Запиши решение и подпиши отрезки.

6. Сравни величины. Поставь знаки сравнения.

7дм 1см ... 17см; 90дм ... 9м; 55см ... 6дм

7. Реши задачу и запиши ответ.

Цирковое представление смотрели 23 мальчика, а девочек на 4 больше. Сколько всего детей смотрели цирковое представление?

Решение:

Ответ. _____

8. Сравни значение выражений. Поставь знаки сравнения.

$(16 + 4) : 5$... $(19 - 7) : 2$

9. Раскрась фигуры так, чтобы круг лежал под треугольником, а квадрат был самой верхней фигурой.

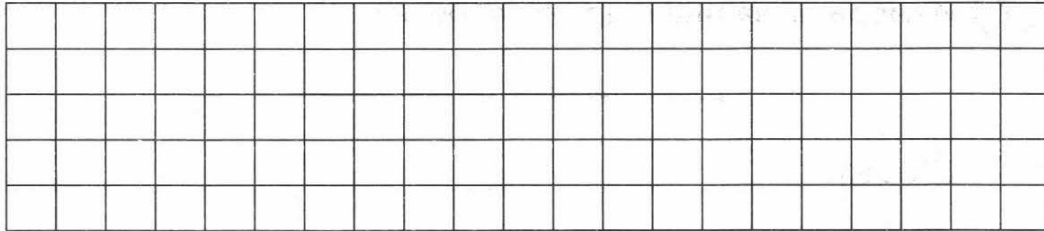
6. Сравни величины. Поставь знаки сравнения.

5дм 2см ... 25см; 70дм ... 7м; 44см ... 5дм

7. Реши задачу и запиши ответ.

Для украшения зала купили 19 красных шариков, а синих на 8 меньше.
Сколько всего шариков купили для украшения зала?


Решение:



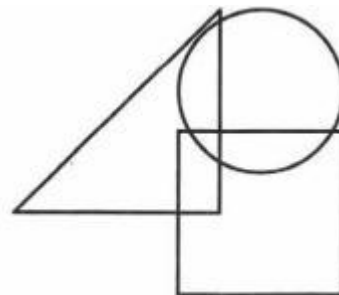
Ответ. _____

8. Сравни значение выражений. Поставь знаки сравнения.

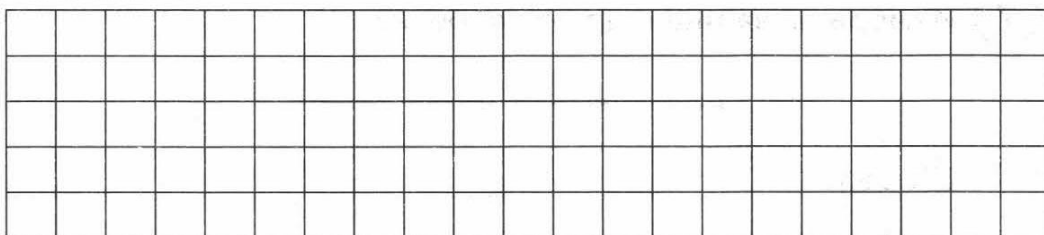
$(21 + 6) : 3$... $(36 - 4) : 4$



9. Раскрась фигуры так, чтобы круг лежал под треугольником, а квадрат был самой верхней фигурой.



10. Реши уравнения: $9 + x = 14$; $x - 7 = 4$



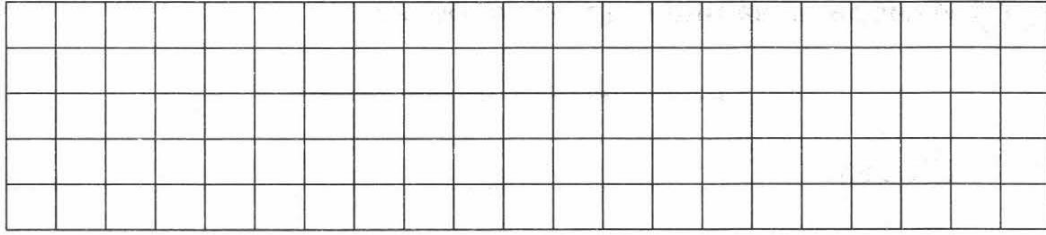
ЧАСТЬ 2

При выполнении заданий 11 и 12 запиши решение и ответ.

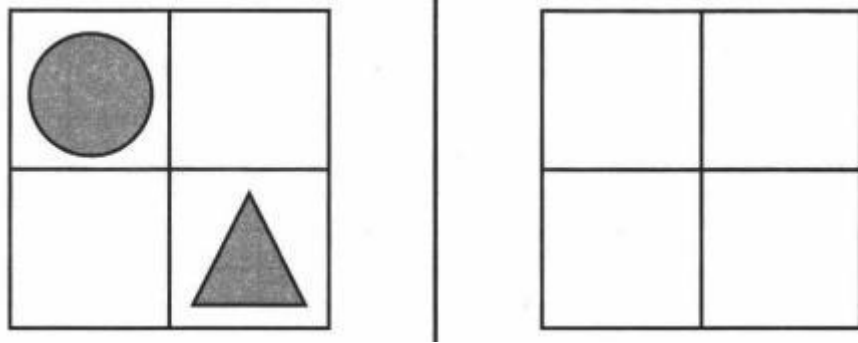
Ответ. _____

8. Сравни значение выражений. Поставь знаки сравнения.

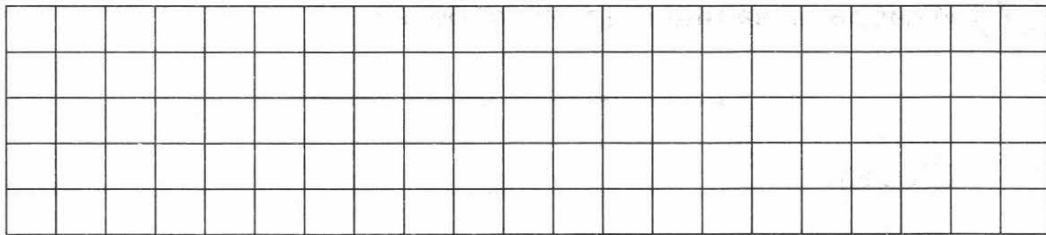
$$86 - 42 : 7 \cdot 6 \dots 52$$



9. Ира разделила квадрат на четыре части и нарисовала внутри него круг и треугольник, затем поднесла рисунок к зеркалу. Какое изображение Ира увидит в зеркале? Нарисуй в пустом квадрате это изображение.



10. Реши уравнения: $80 : x = 8$; $x \cdot 6 = 24$



ЧАСТЬ 2

При выполнении заданий 11 и 12 запиши решение и ответ.

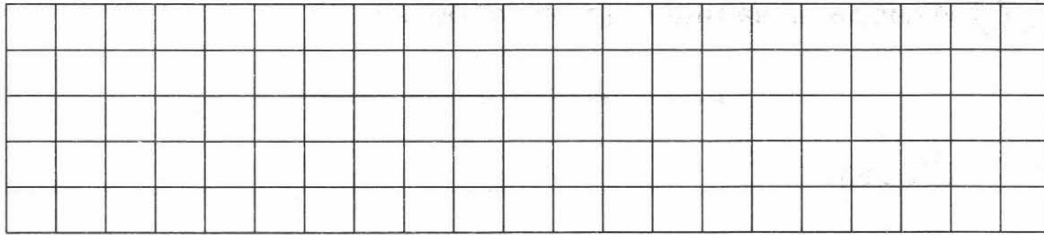
11. Реши задачу.

У Оли было 100 руб. Она купила краски за 58 руб., а оставшиеся деньги потратила на тетради по 7 руб. Сколько тетрадей купила Оля?

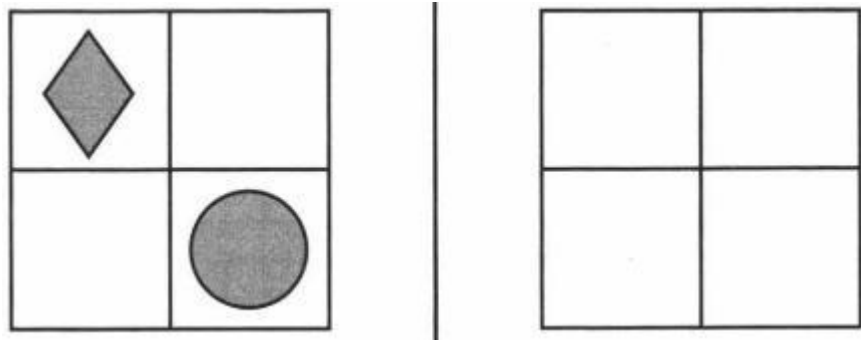
Решение:

8. Сравни значение выражений. Поставь знаки сравнения.


$$62 - 42 : 7 \cdot 4 \dots 42$$



9. Ира разделила квадрат на четыре части и нарисовала внутри него круг и ромб, затем поднесла рисунок к зеркалу. Какое изображение Ира увидит в зеркале? Нарисуй в пустом квадрате это изображение.



10. Реши уравнения: $90 : x = 9$; $x \cdot 7 = 28$



ЧАСТЬ 2

При выполнении заданий 11 и 12 запиши решение и ответ.

11. Реши задачу.

В огороде собрали 90кг моркови. Из них 50кг положили в большой мешок, а остальную разложили в пакеты по 5 кг. Сколько пакетов понадобилось?

Решение:

ДОКУМЕНТ ПОДПИСАН
ЭЛЕКТРОННОЙ ПОДПИСЬЮ

СВЕДЕНИЯ О СЕРТИФИКАТЕ ЭП

Сертификат 135955613336665976574499022560335136778487908085

Владелец Сурнин Руслан Валерьевич

Действителен с 19.06.2023 по 18.06.2024